


〈理科基礎シート〉


小3-5 じしゃく

月 日 年 組 番 名前

1 図1は、じしゃくです。 

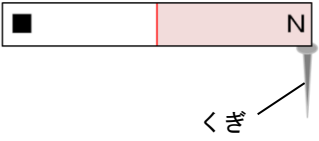
- (1) 図1の■にある文字は何ですか。() 図1
- (2) じしゃくにつくものを次のア～カの中から1つ選んで、その記号を書きましょう。()
- ア 竹のものさし イ 1円玉 ウ スチールのかん
エ ペットボトル オ ガラスのコップ カ おり紙
- (3) じしゃくにくぎがつかしました。くぎは、鉄とアルミニウムのどちらでつくられていますか。()
- (4) くぎがたくさんついたのは、じしゃくのどのあたりですか。次のア、イの中から1つ選んで、その記号を書きましょう。()
- ア はしの方 イ まん中の方
- (5) (4) のところを、じしゃくの何といいますか。()
- (6) ビニールふくろの中にじしゃくを入れ、さ鉄を近づけるとどうなりますか。()
- (7) 2つのじしゃくを使って、次の①、②のようにじしゃくどうしを近づけました。どのようになったかを下のア、イの中から1つ選んで、その記号を書きましょう。

① () 

② () 

ア 引きつけ合った イ しりぞけ合った

2 じしゃくにくぎを近づけると、図2のように、くぎがつかしました。このくぎをじしゃくから、はずして、さ鉄に近づけるとどうなりましたか。



() に当てはまる言葉をそれぞれ書きましょう。 図2

くぎに、さ鉄が ()。

----- キリトリ -----

〈正答例〉

- 1 (1) S (2) ウ (3) 鉄 (4) ア (5) きよく
(6) (ビニールふくろはさんで、) じしゃくに、さ鉄がついた。
(7) ① イ ② ア 2 ついた